

# Nové otázky eTesty

Soubor 35 otázek pro eTesty

PLATNÝCH K 15.10.2021

## Obsah:

1001 Znalost pravidel provozu na pozemních komunikacích .....	5
Ukázka z Elektronického Věstníku dopravy.....	5
Ukázka otázky při procházení ve cvičném testu.....	5
1002 Znalost dopravních značek, světelných a akustických signálů... ..	6
Ukázka z Elektronického Věstníku dopravy.....	6
Ukázka otázky při procházení ve cvičném testu.....	6
1006 Znalost dopravních značek, světelných a akustických signálů... ..	7
Ukázka z Elektronického Věstníku dopravy.....	7
Ukázka otázky při procházení ve cvičném testu.....	7
1007 Znalost pravidel provozu na pozemních komunikacích .....	8
Ukázka z Elektronického Věstníku dopravy.....	8
Ukázka otázky při procházení ve cvičném testu.....	8
1013 Schopnost řešení dopravních situací.....	9
Ukázka z Elektronického Věstníku dopravy.....	9
Ukázka otázky při procházení ve cvičném testu.....	9
1016 Znalost dopravních značek, světelných a akustických signálů... ..	10
Ukázka z Elektronického Věstníku dopravy.....	10
Ukázka otázky při procházení ve cvičném testu.....	10
1020 Znalost dopravních značek, světelných a akustických signálů... ..	11
Ukázka z Elektronického Věstníku dopravy.....	11
Ukázka otázky při procházení ve cvičném testu.....	11
1031 Znalost dopravních značek, světelných a akustických signálů... ..	12
Ukázka z Elektronického Věstníku dopravy.....	12
Ukázka otázky při procházení ve cvičném testu.....	12
1041 Znalost pravidel provozu na pozemních komunikacích .....	13
Ukázka z Elektronického Věstníku dopravy.....	13
Ukázka otázky při procházení ve cvičném testu.....	13

1046 Schopnost řešení dopravních situací.....	14
Ukázka z Elektronického Věstníku dopravy.....	14
Ukázka otázky při procházení ve cvičném testu.....	14
1047 Schopnost řešení dopravních situací.....	15
Ukázka z Elektronického Věstníku dopravy.....	15
Ukázka otázky při procházení ve cvičném testu.....	15
1053 Znalost dopravních značek, světelných a akustických signálů.....	16
Ukázka z Elektronického Věstníku dopravy.....	16
Ukázka otázky při procházení ve cvičném testu.....	16
1057 Schopnost řešení dopravních situací .....	17
Ukázka z Elektronického Věstníku dopravy.....	17
Ukázka otázky při procházení ve cvičném testu.....	17
1062 Znalost pravidel provozu na pozemních komunikacích .....	18
Ukázka z Elektronického Věstníku dopravy.....	18
Ukázka otázky při procházení ve cvičném testu.....	18
1068 Znalost dopravních značek, světelných a akustických signálů.....	19
Ukázka z Elektronického Věstníku dopravy.....	19
Ukázka otázky při procházení ve cvičném testu.....	19
1069 Schopnost řešení dopravních situací .....	20
Ukázka z Elektronického Věstníku dopravy.....	20
Ukázka otázky při procházení ve cvičném testu.....	20
1070 Schopnost řešení dopravních situací .....	21
Ukázka z Elektronického Věstníku dopravy.....	21
Ukázka otázky při procházení ve cvičném testu.....	21
1072 Znalost dopravních značek, světelných a akustických signálů.....	22
Ukázka z Elektronického Věstníku dopravy.....	22
Ukázka otázky při procházení ve cvičném testu.....	22

1083 Znalost dopravních značek, světelných a akustických signálů.....	23
Ukázka z Elektronického Věstníku dopravy.....	23
Ukázka otázky při procházení ve cvičném testu.....	23
1084 Znalost dopravních značek, světelných a akustických signálů.....	24
Ukázka z Elektronického Věstníku dopravy.....	24
Ukázka otázky při procházení ve cvičném testu.....	24
1085 Znalost dopravních značek, světelných a akustických signálů.....	25
Ukázka z Elektronického Věstníku dopravy.....	25
Ukázka otázky při procházení ve cvičném testu.....	25
1092 Znalost dopravních značek, světelných a akustických signálů.....	26
Ukázka otázky při procházení ve cvičném testu.....	26
1100 Schopnost řešení dopravních situací .....	27
Ukázka z Elektronického Věstníku dopravy.....	27
Ukázka otázky při procházení ve cvičném testu.....	27
1102 Schopnost řešení dopravních situací .....	28
Ukázka z Elektronického Věstníku dopravy.....	28
Ukázka otázky při procházení ve cvičném testu.....	28
1104 Znalost pravidel provozu na pozemních komunikacích .....	29
Ukázka z Elektronického Věstníku dopravy.....	29
Ukázka otázky při procházení ve cvičném testu.....	29
1109 Schopnost řešení dopravních situací .....	30
Ukázka z Elektronického Věstníku dopravy.....	30
Ukázka otázky při procházení ve cvičném testu.....	30
1111 Znalost dopravních značek, světelných a akustických signálů.....	31
Ukázka z Elektronického Věstníku dopravy.....	31
Ukázka otázky při procházení ve cvičném testu.....	31
1112 Schopnost řešení dopravních situací .....	32

Ukázka z Elektronického Věstníku dopravy.....	32
Ukázka otázky při procházení ve cvičném testu.....	32
1114 Znalost pravidel provozu na pozemních komunikacích .....	33
Ukázka z Elektronického Věstníku dopravy.....	33
Ukázka otázky při procházení ve cvičném testu.....	33
1118 Schopnost řešení dopravních situací .....	34
Ukázka z Elektronického Věstníku dopravy.....	34
Ukázka otázky při procházení ve cvičném testu.....	34
1123 Znalost dopravních značek, světelných a akustických signálů.....	35
Ukázka z Elektronického Věstníku dopravy.....	35
Ukázka otázky při procházení ve cvičném testu.....	35
1124 Znalost dopravních značek, světelných a akustických signálů.....	36
Ukázka z Elektronického Věstníku dopravy.....	36
Ukázka otázky při procházení ve cvičném testu.....	36
1133 Znalost dopravních značek, světelných a akustických signálů.....	37
Ukázka z Elektronického Věstníku dopravy.....	37
Ukázka otázky při procházení ve cvičném testu.....	37
1139 Znalost dopravních značek, světelných a akustických signálů.....	38
Ukázka z Elektronického Věstníku dopravy.....	38
Ukázka otázky při procházení ve cvičném testu.....	38
1160 Znalost pravidel provozu na pozemních komunikacích .....	39
Ukázka z Elektronického Věstníku dopravy.....	39
Ukázka otázky při procházení ve cvičném testu.....	39

## 1001 Znalost pravidel provozu na pozemních komunikacích


Ukázka z Elektronického Věstníku dopravy

**[2 b.] Žadatel o řidičské oprávnění smí řídit motorové vozidlo skupiny, o kterou žádá:**

- a) pod dohledem učitele autoškoly.
- b) pod dohledem osoby s nejméně pětiletou praxí v řízení.
- c) pod dohledem rodičů, nebo zákonného zástupce.

Ukázka otázky při procházení ve cvičném testu

[21080006] (25.08.2021) Žadatel o řidičské oprávnění smí řídit motorové vozidlo skupiny, o kterou žádá:

<b>A</b> 	pod dohledem učitele autoškoly.
<b>B</b>	pod dohledem osoby s nejméně pětiletou praxí v řízení.
<b>C</b>	pod dohledem rodičů, nebo zákonného zástupce.

[Zobrazit správné odpovědi](#)

## 1002 Znalost dopravních značek, světelných a akustických signálů...


Ukázka z Elektronického Věstníku dopravy

### [1 b.] Platnost zónových dopravních značek:

- a) je ukončena na nejbližší křižovatce.
- b) je ukončena dopravní značkou informující o jejím konci, není-li stanoveno jinak.
- c) končí po 100 m od značky.

Ukázka otázky při procházení ve cvičném testu

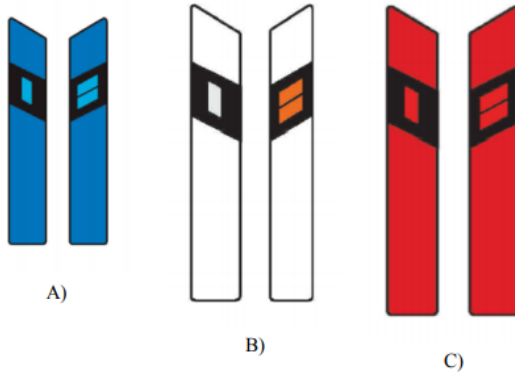
[21080007] (25.08.2021) Platnost zónových dopravních značek:

A	je ukončena na nejbližší křižovatce.
B 	je ukončena dopravní značkou informující o jejím konci, není-li stanoveno jinak.
C	končí po 100 m od značky.

## 1006 Znalost dopravních značek, světelných a akustických signálů...

### Ukázka z Elektronického Věstníku dopravy

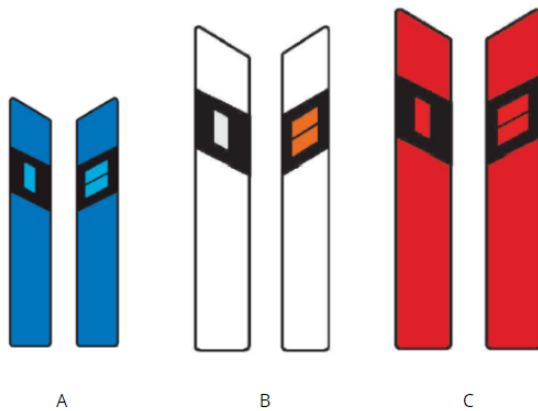
[1 b.] Které směrové sloupky označují úsek pozemní komunikace, kde hrozí zvýšené nebezpečí námrazy:



- a) modré
- b) bílé
- c) červené

### Ukázka otázky při procházení ve cvičném testu

[21080008] (25.08.2021) Které směrové sloupky označují úsek pozemní komunikace, kde hrozí zvýšené nebezpečí námrazy:



<b>A</b>	modré
<b>B</b>	bílé
<b>C</b>	červené

## 1007 Znalost pravidel provozu na pozemních komunikacích


Ukázka z Elektronického Věstníku dopravy

### [2 b.] Řidič se smí otáčet:

- a) na křižovatce, na které je provoz upraven dopravními značkami
- b) na přejezdu pro cyklisty
- c) na křižovatce, na které je provoz řízen světelnými signály

Ukázka otázky při procházení ve cvičném testu

[21080010] (25.08.2021) Řidič se smí otáčet:

A 	na křižovatce, na které je provoz upraven dopravními značkami
B	na přejezdu pro cyklisty
C	na křižovatce, na které je provoz řízen světelnými signály

## 1013 Schopnost řešení dopravních situací

Ukázka z Elektronického Věstníku dopravy

**[4 b.] Cyklistovi, který dává znamení o změně směru jízdy proto, aby mohl přejít z vyhrazeného jízdního pruhu pro cyklisty do průběžného pruhu, řidič jedoucí v přilehlém pruhu:**




- a) nemusí tento úkon umožnit, jedná se o jízdu z pruhu do pruhu, cyklista nesmí ohrozit ani omezit řidiče jedoucí v pruhu, do kterého se zařazuje
- b) nemusí tento úkon umožnit, pokud jej neohrozí
- c) musí tento úkon umožnit snížením rychlosti jízdy, popřípadě i zastavením vozidla

Ukázka otázky při procházení ve cvičném testu

[21080011] (25.08.2021) Cyklistovi, který dává znamení o změně směru jízdy proto, aby mohl přejít z vyhrazeného jízdního pruhu pro cyklisty do průběžného pruhu, řidič jedoucí v přilehlém pruhu:



<b>A</b>	nemusí tento úkon umožnit, jedná se o jízdu z pruhu do pruhu, cyklista nesmí ohrozit ani omezit řidiče jedoucí v pruhu, do kterého se zařazuje
<b>B</b>	nemusí tento úkon umožnit, pokud jej neohrozí
<b>C</b> 	musí tento úkon umožnit snížením rychlosti jízdy, popřípadě i zastavením vozidla

## 1016 Znalost dopravních značek, světelných a akustických signálů...

Ukázka z Elektronického Věstníku dopravy

**[1 b.] Tato dopravní značka označuje:**




- a) parkoviště na kruhovém objezdu
- b) placené parkoviště s parkovacím automatem na mince
- c) parkoviště, na kterém řidič musí ve vozidle viditelně umístit kotouč s nastavením začátku stání

Ukázka otázky při procházení ve cvičném testu

[21080012] (06.09.2021) Tato dopravní značka označuje:



A	parkoviště na kruhovém objezdu
B	placené parkoviště s parkovacím automatem na mince
C 	parkoviště, na kterém řidič musí ve vozidle viditelně umístit kotouč s nastavením začátku stání

## 1020 Znalost dopravních značek, světelných a akustických signálů...

Ukázka z Elektronického Věstníku dopravy

**[1 b.] Toto označení:**




- a) informuje účastníky provozu o řízení vozidla méně zkušeným řidičem
- b) upozorňuje na povinnost označit vozidlo výstražným trojúhelníkem
- c) označuje prostor určený pro odkládání zavazadel ve vozidle hromadné dopravy

Ukázka otázky při procházení ve cvičném testu

[21080003] (25.08.2021) Toto označení:



<b>A</b> 	informuje účastníky provozu o řízení vozidla méně zkušeným řidičem
<b>B</b>	upozorňuje na povinnost označit vozidlo výstražným trojúhelníkem
<b>C</b>	označuje prostor určený pro odkládání zavazadel ve vozidle hromadné dopravy

## 1031 Znalost dopravních značek, světelných a akustických signálů...

Ukázka z Elektronického Věstníku dopravy

**[1 b.] Do oblasti za těmito dopravními značkami:**




- a) je možné vjet za účelem parkování vozidla.
- b) je možné vjet za účelem zkrácení si cesty.
- c) je zakázáno vjet.

Ukázka otázky při procházení ve cvičném testu

[21080013] (06.09.2021) Do oblasti za těmito dopravními značkami:



<b>A</b> 	je možné vjet za účelem parkování vozidla.
<b>B</b>	je možné vjet za účelem zkrácení si cesty.
<b>C</b>	je zakázáno vjet.

## 1041 Znalost pravidel provozu na pozemních komunikacích

Ukázka z Elektronického Věstníku dopravy

### [2 b.] Řidič vozidla z výhledu při objíždění označené překážky v provozu:




- a) nesmí omezit cyklistu jedoucího ve vyhrazeném jízdním pruhu.
- b) může omezit cyklistu jedoucího ve vyhrazeném jízdním pruhu.

Ukázka otázky při procházení ve cvičném testu

[21080014] (06.09.2021) Řidič vozidla z výhledu při objíždění označené překážky v provozu:



<b>A</b> 	nesmí omezit cyklistu jedoucího ve vyhrazeném jízdním pruhu.
<b>B</b>	může omezit cyklistu jedoucího ve vyhrazeném jízdním pruhu.

## 1046 Schopnost řešení dopravních situací

Ukázka z Elektronického Věstníku dopravy

**[4 b.] Na uvedené křižovatce řidič vozidla z výhledu:**



- Smí odbočit vpravo, přitom musí dát přednost v jízdě vozidlům a jezdcům na zvířatech jedoucím ve volném směru a útvarům chodců jdoucím ve volném směru.
- Nemusí se při odbočení vpravo řídit světelnými signály, neboť těmto je nadřazena přenosná svíslá dopravní značka „Práce na silnici“, která informuje o poruše světelných signálů.
- Je doplňkovou zelenou šipkou informován o přednosti v jízdě vozidel přijíždějících zprava.

Ukázka otázky při procházení ve cvičném testu

[21080015] (25.08.2021) Na uvedené křižovatce řidič vozidla z výhledu:



<b>A</b>	Smí odbočit vpravo, přitom musí dát přednost v jízdě vozidlům a jezdcům na zvířatech jedoucím ve volném směru a útvarům chodců jdoucím ve volném směru.
<b>B</b>	Nemusí se při odbočení vpravo řídit světelnými signály, neboť těmto je nadřazena přenosná svíslá dopravní značka „Práce na silnici“, která informuje o poruše světelných signálů.
<b>C</b>	Je doplňkovou zelenou šipkou informován o přednosti v jízdě vozidel přijíždějících zprava.

## 1047 Schopnost řešení dopravních situací

Ukázka z Elektronického Věstníku dopravy

**[4 b.] Řidič vozidla z výhledu hodlá na nejbližší křižovatce odbočit vpravo. Za této situace:**




- a) Jsou cyklisté jedoucí v jízdním pruhu pro cyklisty povinni dát mu přednost v jízdě.
- b) Je řidič povinen dát přednost v jízdě cyklistům jedoucím v jízdním pruhu pro cyklisty.

Ukázka otázky při procházení ve cvičném testu

[21080016] (25.08.2021) Řidič vozidla z výhledu hodlá na nejbližší křižovatce odbočit vpravo. Za této situace:



- |  |  |
|--|--|
| <b>A</b>   | Jsou cyklisté jedoucí v jízdním pruhu pro cyklisty povinni dát mu přednost v jízdě.    |
| <b>B</b>  | Je řidič povinen dát přednost v jízdě cyklistům jedoucím v jízdním pruhu pro cyklisty. |

## 1053 Znalost dopravních značek, světelných a akustických signálů...

Ukázka z Elektronického Věstníku dopravy

**[1 b.] Smí řidič motorového vozidla, který není držitelem platného parkovacího oprávnění pro danou oblast, zaparkovat za touto dopravní značkou v sobotu v poledne?**



- a) Ne
- b) Ano, bezplatně
- c) Ano, pokud uhradí parkovné

Ukázka otázky při procházení ve cvičném testu

[21080017] (25.08.2021) Smí řidič motorového vozidla, který není držitelem platného parkovacího oprávnění pro danou oblast, zaparkovat za touto dopravní značkou v sobotu v poledne?



<b>A</b>	Ne
<b>B</b> ✓	Ano, bezplatně
<b>C</b>	Ano, pokud uhradí parkovné

## 1057 Schopnost řešení dopravních situací

Ukázka z Elektronického Věstníku dopravy

**[4 b.] Řidič vozidla z výhledu se chystá odbočit vlevo. Musí dát přednost v jízdě tramvaji?**



- a) Ne
- b) Ano

Ukázka otázky při procházení ve cvičném testu

[21080018] (25.08.2021) Řidič vozidla z výhledu se chystá odbočit vlevo. Musí dát přednost v jízdě tramvaji?



A <input checked="" type="checkbox"/>	Ne
B <input type="checkbox"/>	Ano

## 1062 Znalost pravidel provozu na pozemních komunikacích

Ukázka z Elektronického Věstníku dopravy

**[2 b.] Technickou silniční kontrolou se mimo jiné rozumí kontrola technického stavu vozidla. Řidič motorového vozidla je povinen:**




- a) Na výzvu policisty podrobit vozidlo technické silniční kontrole, pouze pokud uplynula doba 1 roku od řádné technické prohlídky vozidla.
- b) Na výzvu policisty podrobit vozidlo technické silniční kontrole.
- c) Na výzvu policisty podrobit vozidlo technické silniční kontrole v případě, kdy vozidlo vykazuje nebezpečnou závadu.

Ukázka otázky při procházení ve cvičném testu

[21080019] (25.08.2021) Technickou silniční kontrolou se mimo jiné rozumí kontrola technického stavu vozidla. Řidič motorového vozidla je povinen:



A	Na výzvu policisty podrobit vozidlo technické silniční kontrole, pouze pokud uplynula doba 1 roku od řádné technické prohlídky vozidla.
B 	Na výzvu policisty podrobit vozidlo technické silniční kontrole.
C	Na výzvu policisty podrobit vozidlo technické silniční kontrole v případě, kdy vozidlo vykazuje nebezpečnou závadu.

## 1068 Znalost dopravních značek, světelných a akustických signálů...

Ukázka z Elektronického Věstníku dopravy

**[1 b.] Tato dopravní značka:**




- a) Prikazuje řidiči dát přednost v jízdě protijedoucím vozidlům.
- b) Informuje řidiče o přednosti v jízdě před protijedoucími vozidly.
- c) Zakazuje vjezd více jak dvou vozidel v jednom směru jízdy.

Ukázka otázky při procházení ve cvičném testu

[21080020] (25.08.2021) Tato dopravní značka:



<b>A</b> 	Přikazuje řidiči dát přednost v jízdě protijedoucím vozidlům.
<b>B</b>	Informuje řidiče o přednosti v jízdě před protijedoucími vozidly.
<b>C</b>	Zakazuje vjezd více jak dvou vozidel v jednom směru jízdy.

## 1069 Schopnost řešení dopravních situací

Ukázka z Elektronického Věstníku dopravy

### [4 b.] Řidič vozidla z výhledu odbočující na křižovatce vlevo:




- Musí dát přednost v jízdě vozidlům přijíždějícím zprava, přitom nemá povinnost přizpůsobit rychlost jízdy okolnostem, které je možné předvídat.
- Musí dát přednost v jízdě vozidlům přijíždějícím zprava a přizpůsobit rychlost jízdy okolnostem, které je možné předvídat, zejména možnosti smyku na zasněžené vozovce a případné tvorbě náledí na mostu.
- Má přednost v jízdě před ostatními vozidly, přitom musí přizpůsobit rychlost jízdy okolnostem, které je možné předvídat, zejména možnosti smyku na zasněžené vozovce a případné tvorbě náledí na mostu.

Ukázka otázky při procházení ve cvičném testu

[21080021] (25.08.2021) Řidič vozidla z výhledu odbočující na křižovatce vlevo:



<b>A</b>	Musí dát přednost v jízdě vozidlům přijíždějícím zprava, přitom nemá povinnost přizpůsobit rychlost jízdy okolnostem, které je možné předvídat.
<b>B</b> 	Musí dát přednost v jízdě vozidlům přijíždějícím zprava a přizpůsobit rychlost jízdy okolnostem, které je možné předvídat, zejména možnosti smyku na zasněžené vozovce a případné tvorbě náledí na mostu.
<b>C</b>	Má přednost v jízdě před ostatními vozidly, přitom musí přizpůsobit rychlost jízdy okolnostem, které je možné předvídat, zejména možnosti smyku na zasněžené vozovce a případné tvorbě náledí na mostu.

## 1070 Schopnost řešení dopravních situací

Ukázka z Elektronického Věstníku dopravy

### [4 b.] Řidič vozidla z výhledu odbočující na křižovatce vlevo:




- Má přednost v jízdě před ostatními vozidly, přitom není povinen dát znamení o změně směru jízdy vlevo, protože projíždí křižovatkou po hlavní pozemní komunikaci, přitom musí přizpůsobit rychlost jízdy okolnostem, které je možné předvídat, zejména riziku smyku na zasněžené vozovce.
- Má přednost v jízdě před ostatními vozidly, přitom musí přizpůsobit rychlost jízdy okolnostem, které je možné předvídat, zejména riziku smyku na zasněžené vozovce. Přitom dává znamení o změně směru jízdy vlevo.
- Musí dát přednost v jízdě protijedoucím vozidlům, přitom musí přizpůsobit rychlost jízdy okolnostem, které je možné předvídat, zejména riziku smyku na zasněžené vozovce.

Ukázka otázky při procházení ve cvičném testu

[21080022] (25.08.2021) Řidič vozidla z výhledu odbočující na křižovatce vlevo:



<b>A</b>	Má přednost v jízdě před ostatními vozidly, přitom není povinen dát znamení o změně směru jízdy vlevo, protože projíždí křižovatkou po hlavní pozemní komunikaci, přitom musí přizpůsobit rychlost jízdy okolnostem, které je možné předvídat, zejména riziku smyku na zasněžené vozovce.
<b>B</b> 	Má přednost v jízdě před ostatními vozidly, přitom musí přizpůsobit rychlost jízdy okolnostem, které je možné předvídat, zejména riziku smyku na zasněžené vozovce. Přitom dává znamení o změně směru jízdy vlevo.
<b>C</b>	Musí dát přednost v jízdě protijedoucím vozidlům, přitom musí přizpůsobit rychlost jízdy okolnostem, které je možné předvídat, zejména riziku smyku na zasněžené vozovce.

## 1072 Znalost dopravních značek, světelných a akustických signálů...

Ukázka z Elektronického Věstníku dopravy

**[I b.] Jakou rychlostí můžete jet v obci jako řidič osobního automobilu z výhledu na vyobrazené situaci za nejbližší informativní značkou zónovou**



- a) 80 km/h
- b) 110 km/h
- c) 50 km/h

Ukázka otázky při procházení ve cvičném testu

[21080023] (25.08.2021) Jakou rychlostí můžete jet v obci jako řidič osobního automobilu z výhledu na vyobrazené situaci za nejbližší informativní značkou zónovou



<b>A</b> 	80 km/h
<b>B</b>	110 km/h
<b>C</b>	50 km/h

## 1083 Znalost dopravních značek, světelných a akustických signálů...

Ukázka z Elektronického Věstníku dopravy

**[1 b.] Co znázorňuje vodorovná dopravní značka na obrázku?**



- a) Pruh nebo stezku pro cyklisty.
- b) Přejezd pro cyklisty.
- c) Prostor určený pro cyklisty čekající na světelný signál „Volno“.

Ukázka otázky při procházení ve cvičném testu

[21080024] (25.08.2021) Co znázorňuje vodorovná dopravní značka na obrázku?



- |  |  |
|--|--|
| <b>A</b>   | Pruh nebo stezku pro cyklisty.                                   |
| <b>B</b>   | Přejezd pro cyklisty.  |
| <b>C</b>  | Prostor určený pro cyklisty čekající na světelný signál „Volno“. |

## 1084 Znalost dopravních značek, světelných a akustických signálů...

Ukázka z Elektronického Věstníku dopravy

**[1 b.] Ve zřízeném prostoru pro cyklisty na křižovatce se světelnými signály se mohou řadit pouze:**




- a) motocyklisté a cyklisté.
- b) cyklisté
- c) potahová vozidla a cyklisté.

Ukázka otázky při procházení ve cvičném testu

[21080025] (25.08.2021) Ve zřízeném prostoru pro cyklisty na křižovatce se světelnými signály se mohou řadit pouze:



A	motocyklisté a cyklisté.
B 	cyklisté
C	potahová vozidla a cyklisté.

## 1085 Znalost dopravních značek, světelných a akustických signálů...

Ukázka z Elektronického Věstníku dopravy

**[1 b.] Co znázorňuje vodorovná dopravní značka na obrázku?**



- a) Piktogramový koridor pro cyklisty.
- b) Jízdní pruh pro cyklisty.
- c) Prostor pro cyklisty.

Ukázka otázky při procházení ve cvičném testu

[21080026] (25.08.2021) Co znázorňuje vodorovná dopravní značka na obrázku?



<b>A</b>	Piktogramový koridor pro cyklisty.
<b>B</b> ✓	Jízdní pruh pro cyklisty.
<b>C</b>	Prostor pro cyklisty.

## 1092 Znalost dopravních značek, světelných a akustických signálů...

Ukázka z Elektronického Věstníku dopravy

**[1 b.] V úseku pozemní komunikace, který následuje za touto svislou dopravní značkou, jako řidič motorového vozidla**




- smíte zastavit a stát ve vyhrazeném jízdním pruhu pro cyklisty.
- nesmíte zastavit a stát ve vyhrazeném jízdním pruhu pro cyklisty.
- smíte ve vyhrazeném jízdním pruhu pro cyklisty zastavit na dobu nezbytně nutnou k neprodlenému nastoupení nebo vystoupení přepravovaných osob anebo k neprodlenému naložení nebo složení nákladu.

Ukázka otázky při procházení ve cvičném testu

[21080027] (25.08.2021) V úseku pozemní komunikace, který následuje za touto svislou dopravní značkou, jako řidič motorového vozidla



<b>A</b>	smíte zastavit a stát ve vyhrazeném jízdním pruhu pro cyklisty.
<b>B</b> 	nesmíte zastavit a stát ve vyhrazeném jízdním pruhu pro cyklisty.
<b>C</b>	smíte ve vyhrazeném jízdním pruhu pro cyklisty zastavit na dobu nezbytně nutnou k neprodlenému nastoupení nebo vystoupení přepravovaných osob anebo k neprodlenému naložení nebo složení nákladu.

## 1100 Schopnost řešení dopravních situací

Ukázka z Elektronického Věstníku dopravy

**[4 b.] Řidič osobního vozidla odbočujícího ve vyobrazené situaci vlevo:**




- a) musí dát přednost v jízdě pouze protijedoucí tramvaji.
- b) má přednost v jízdě před tramvaji v obou směrech.
- c) musí dát přednost v jízdě tramvajím v obou směrech.

Ukázka otázky při procházení ve cvičném testu

[21080028] (25.08.2021) Řidič osobního vozidla odbočujícího ve vyobrazené situaci vlevo:




<b>A</b>	musí dát přednost v jízdě pouze protijedoucí tramvaji.
<b>B</b>	má přednost v jízdě před tramvaji v obou směrech.
<b>C</b> 	musí dát přednost v jízdě tramvajím v obou směrech.

## 1102 Schopnost řešení dopravních situací

Ukázka z Elektronického Věstníku dopravy

**[4 b.] Řidič vozidla z výhledu v této dopravní situaci:**




- a) může projet křižovatkou.
- b) musí zastavit vozidlo v místě, odkud má náležitý rozhled do křižovatky.
- c) musí zastavit vozidlo před příčnou čarou souvislou.

Ukázka otázky při procházení ve cvičném testu

[21080029] (25.08.2021) Řidič vozidla z výhledu v této dopravní situaci:



<b>A</b> 	může projet křižovatkou.
<b>B</b>	musí zastavit vozidlo v místě, odkud má náležitý rozhled do křižovatky.
<b>C</b>	musí zastavit vozidlo před příčnou čarou souvislou.

## 1104 Znalost pravidel provozu na pozemních komunikacích

Ukázka z Elektronického Věstníku dopravy

**[2 b.] Řidič vozidla z výhledu hodlá pokračovat v jízdě po hlavní pozemní komunikaci. Přítom:**




- a) musí dát znamení o změně směru jízdy vlevo.
- b) musí dát znamení o změně směru jízdy vpravo.
- c) nemusí dát znamení o změně směru jízdy.

Ukázka otázky při procházení ve cvičném testu

[21080030] (25.08.2021) Řidič vozidla z výhledu hodlá pokračovat v jízdě po hlavní pozemní komunikaci. Přítom:



<b>A</b> 	musí dát znamení o změně směru jízdy vlevo.
<b>B</b>	musí dát znamení o změně směru jízdy vpravo.
<b>C</b>	nemusí dát znamení o změně směru jízdy.

## 1109 Schopnost řešení dopravních situací

Ukázka z Elektronického Věstníku dopravy

**[4 b.] Na vyobrazeném místě musí řidič:**




- a) odbočit vpravo, přičemž má přednost před vozidly přijíždějícími zleva.
- b) odbočit vlevo, přičemž má přednost před vozidly přijíždějícími zprava
- c) odbočit vlevo, přičemž musí dát přednost vozidlům přijíždějícím zprava.

Ukázka otázky při procházení ve cvičném testu

[21080009] (25.08.2021) Na vyobrazeném místě musí řidič:



A	odbočit vpravo, přičemž má přednost před vozidly přijíždějícími zleva.
B	odbočit vlevo, přičemž má přednost před vozidly přijíždějícími zprava
C 	odbočit vlevo, přičemž musí dát přednost vozidlům přijíždějícím zprava.

## 1111 Znalost dopravních značek, světelných a akustických signálů...

Ukázka z Elektronického Věstníku dopravy

**[1 b.] Ve vyobrazené situaci řidič vozidla z výhledu vpravo:**



- a) smí zastavit
- b) nesmí zastavit a stát
- c) smí stát

Ukázka otázky při procházení ve cvičném testu

[21080039] (25.08.2021) Ve vyobrazené situaci řidič vozidla z výhledu vpravo:



<b>A</b>	smí zastavit
<b>B</b> ✓	nesmí zastavit a stát
<b>C</b>	smí stát

## 1112 Schopnost řešení dopravních situací

Ukázka z Elektronického Věstníku dopravy

### [4 b.] Řidič vozidla z výhledu je povinen v této situaci



- a) sledovat přechod pro chodce a vozidla přijíždějící zprava, kterým musí dát přednost.
- b) odbočit vpravo.
- c) sledovat pouze přechod pro chodce, vozidla přijíždějící zprava musí dát přednost jemu

Ukázka otázky při procházení ve cvičném testu

[21080032] (25.08.2021) Řidič vozidla z výhledu je povinen v této situaci



<b>A</b>	sledovat přechod pro chodce a vozidla přijíždějící zprava, kterým musí dát přednost.
<b>B</b>	odbočit vpravo.
<b>C</b>	sledovat pouze přechod pro chodce, vozidla přijíždějící zprava musí dát přednost jemu

## 1114 Znalost pravidel provozu na pozemních komunikacích

Ukázka z Elektronického Věstníku dopravy

**[2 b.] Smí řidič z výhledu zastavit vozidlo na přechodu pro chodce, aby měl náležitý výhled do křižovatky?**




- a) ano
- b) ne

Ukázka otázky při procházení ve cvičném testu

[21080033] (25.08.2021) Smí řidič z výhledu zastavit vozidlo na přechodu pro chodce, aby měl náležitý výhled do křižovatky?



<b>A</b> 	ano
<b>B</b>	ne

## 1118 Schopnost řešení dopravních situací

Ukázka z Elektronického Věstníku dopravy

**[4 b.] Řidič vozidla z výhledu hodlá odbočit vlevo. V jakém pořadí projedou vozidla touto křižovatkou?**



- a) vozidlo z výhledu, tramvaj
- b) tramvaj, vozidlo z výhledu
- c) obě vozidla mohou projet současně

Ukázka otázky při procházení ve cvičném testu

[21080034] (25.08.2021) Řidič vozidla z výhledu hodlá odbočit vlevo. V jakém pořadí projedou vozidla touto křižovatkou?



<b>A</b>	vozidlo z výhledu, tramvaj
<b>B</b> ✓	tramvaj, vozidlo z výhledu
<b>C</b>	obě vozidla mohou projet současně

## 1123 Znalost dopravních značek, světelných a akustických signálů...

Ukázka z Elektronického Věstníku dopravy

**[1 b.] Za vyobrazenou dopravní značkou se můžete jako řidič motorového vozidla setkat**




- a) s cyklisty v protisměru, kteří vedou kolo.
- b) s jízdou cyklistů v protisměru, které nesmíte ohrozit.
- c) s jízdou cyklistů v protisměru, kterým musíte dát přednost.

Ukázka otázky při procházení ve cvičném testu

[21080035] (25.08.2021) Za vyobrazenou dopravní značkou se můžete jako řidič motorového vozidla setkat



A	s cyklisty v protisměru, kteří vedou kolo.
B 	s jízdou cyklistů v protisměru, které nesmíte ohrozit.
C	s jízdou cyklistů v protisměru, kterým musíte dát přednost.

## 1124 Znalost dopravních značek, světelných a akustických signálů...

Ukázka z Elektronického Věstníku dopravy

**[1 b.] S čím jako řidič motorového vozidla musíte počítat v místech označených touto vodorovnou dopravní značkou?**




- a) S blížícím se prostorem určeným pro cyklisty čekající na světelný signál "volno".
- b) S blížícím se přejezdem pro cyklisty.
- c) Se zvýšeným provozem cyklistů.

Ukázka otázky při procházení ve cvičném testu

[21080036] (25.08.2021) S čím jako řidič motorového vozidla musíte počítat v místech označených touto vodorovnou dopravní značkou?



A	S blížícím se prostorem určeným pro cyklisty čekající na světelný signál "volno".
B	S blížícím se přejezdem pro cyklisty.
C 	Se zvýšeným provozem cyklistů.

## 1133 Znalost dopravních značek, světelných a akustických signálů...

Ukázka z Elektronického Věstníku dopravy

[1 b.] Co znázorňuje tato informativní směrová značka?




- a) Směrová tabulka pro cyklisty informuje o čísle cyklistické trasy.
- b) Dopravní značka označuje cyklostezku.
- c) Směrová tabulka označuje jízdní pruh pro cyklisty a jeho číslo.

Ukázka otázky při procházení ve cvičném testu

[21080038] (25.08.2021) Co znázorňuje tato informativní směrová značka?



A 	Směrová tabulka pro cyklisty informuje o čísle cyklistické trasy.
B	Dopravní značka označuje cyklostezku.
C	Směrová tabulka označuje jízdní pruh pro cyklisty a jeho číslo.

## 1139 Znalost dopravních značek, světelných a akustických signálů...

Ukázka z Elektronického Věstníku dopravy

**[1 b.] Do úseku pozemní komunikace za touto dopravní značkou můžete jako řidič motorového vozidla s maximální přípustnou hmotností nepřevyšující 3500 kg, jet jen v případě, že použijete zimní pneumatiky s hloubkou dezénu hlavních dezénových drážek nebo zářezů nejméně**



- a) 4 mm, a to v období od 1. listopadu do 31. března.
- b) 4 mm, a to bez ohledu na datum a aktuální nebo předpokládané povětrnostní podmínky.
- c) 2 mm, a to bez ohledu na datum a aktuální nebo předpokládané povětrnostní podmínky.

Ukázka otázky při procházení ve cvičném testu

[21080037] (25.08.2021) Do úseku pozemní komunikace za touto dopravní značkou můžete jako řidič motorového vozidla s maximální přípustnou hmotností nepřevyšující 3500 kg, jet jen v případě, že použijete zimní pneumatiky s hloubkou dezénu hlavních dezénových drážek nebo zářezů nejméně



A	4 mm, a to v období od 1. listopadu do 31. března.
B	4 mm, a to bez ohledu na datum a aktuální nebo předpokládané povětrnostní podmínky.
C	2 mm, a to bez ohledu na datum a aktuální nebo předpokládané povětrnostní podmínky.

## 1160 Znalost pravidel provozu na pozemních komunikacích

Ukázka z Elektronického Věstníku dopravy

**[2 b.] Jakou minimální hloubku hlavních dezénových drážek nebo zářezů u zimních pneumatik musí mít řidič vozidla do 3500 kg celkové hmotnosti za touto dopravní značkou?**




- a) 4 mm, a to bez ohledu na datum a aktuální nebo předpokládané povětrnostní podmínky.
- b) 4 mm, a to v období od 1. listopadu do 31. března.
- c) 1,6 mm, a to v období od 1. dubna do 31. října.

Ukázka otázky při procházení ve cvičném testu

[21080005] (22.08.2021) Jakou minimální hloubku hlavních dezénových drážek nebo zářezů u zimních pneumatik musí mít řidič vozidla do 3500 kg celkové hmotnosti za touto dopravní značkou?



A 	4 mm, a to bez ohledu na datum a aktuální nebo předpokládané povětrnostní podmínky.
B	4 mm, a to v období od 1. listopadu do 31. března.
C	1,6 mm, a to v období od 1. dubna do 31. října.